



evropský  
sociální  
fond v ČR



EVROPSKÁ UNIE



MINISTERSTVO ŠKOLSTVÍ,  
MLÁDEŽE A TĚLOVÝCHOVY



OP Vzdělávání  
pro konkurenceschopnost

INVESTICE DO ROZVOJE VZDĚLÁVÁNÍ

## Výukový materiál zpracován v rámci projektu EU peníze školám

Registrační číslo projektu: CZ.1.07/1.4.00/21.3707

**Šablona:** III/2 **Č. materiálu:** VY\_32\_INOVACE\_310

Jméno autora:	Mgr. Barbora Tomšů
Datum vytvoření:	19. 2. 2013
Třída:	I.
Vzdělávací oblast:	Matematika a její aplikace
Předmět:	Matematika
Tematická oblast:	Číslo a početní operace Sčítání a odčítání V oboru čísel do 8
Druh učebního materiálu:	Pracovní list

### Využití výukového materiálu a metodické pokyny

- z paměti sčítá a odčítá do 8
- procvičuje orientaci v číselné řadě
- doplňuje tabulky, schémata, posloupnosti čísel
- využívá početních situací v praktických činnostech

# Pracovní list

## Sčítání a odčítání v oboru čísel do 8

### 1. Vybarvi správně a vypočítej



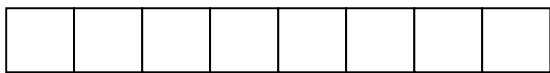
$$3 + 5 =$$

---




$$4 + 4 =$$

---




$$1 + 7 =$$

---



$$2 + 6 =$$

---



$$3 + 4 =$$

---



$$4 + 2 =$$

---

### 2. Doplně správná znaménka +, -

$$5 \bigcirc 1 = 6$$

$$7 \bigcirc 4 = 3$$

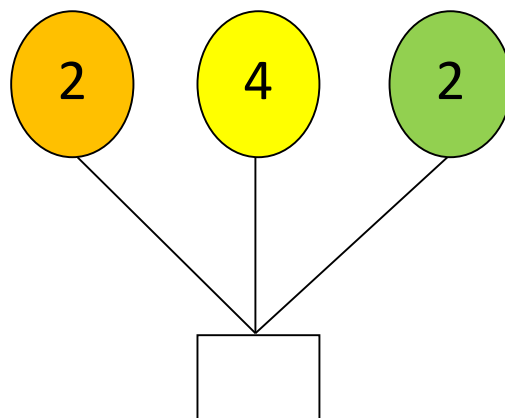
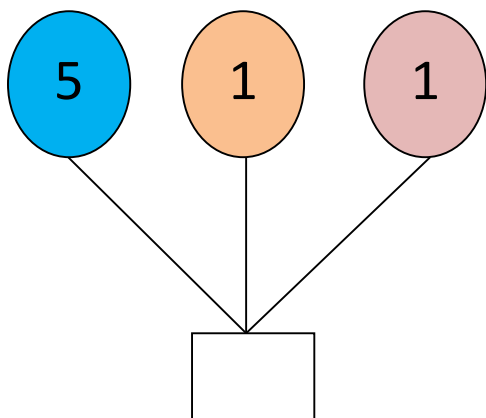
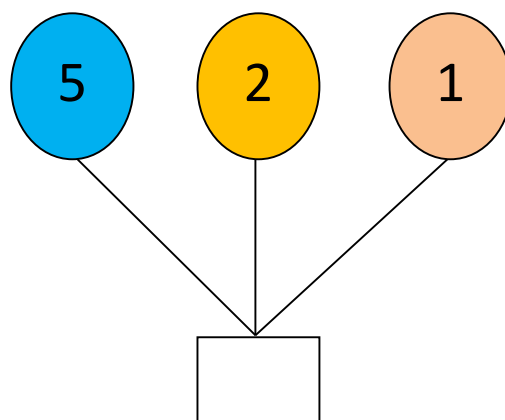
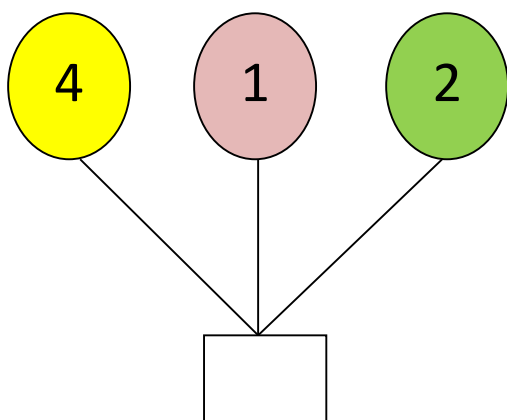
$$4 \bigcirc 2 = 2$$

$$8 \bigcirc 2 = 6$$

$$3 \bigcirc 5 = 8$$

$$3 \bigcirc 3 = 6$$

3. Sečti čísla v balóncích a výsledek zapiš do rámečku



4. Vypočítej

$3 + 2 + 2 =$

$8 - 4 - 2 =$

$1 + 5 - 2 =$

$4 + 3 + 1 =$

$6 - 1 - 1 =$

$0 + 6 - 4 =$

$1 + 5 + 2 =$

$1 + 3 + 4 =$

$7 - 5 + 4 =$

$1 + 1 + 4 =$

$4 + 0 + 2 =$

$8 - 1 - 4 =$

# Pracovní list - řešení

## Sčítání a odčítání v oboru čísel do 8

### 1. Vybarvi správně a vypočítej



$$3 + 5 = 8$$

---



$$4 + 4 = 8$$

---



$$1 + 7 = 8$$

---



$$2 + 6 = 8$$

---



$$3 + 4 = 7$$

---



$$4 + 2 = 6$$

---

### 2. Doplně správná znaménka +, -

$$5 \text{ } \textcircled{+} \text{ } 1 = 6$$

$$7 \text{ } \textcircled{-} \text{ } 4 = 3$$

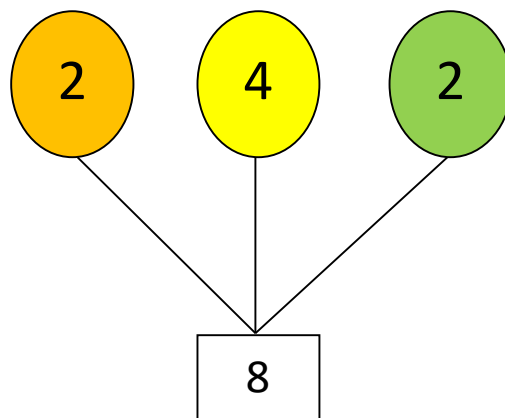
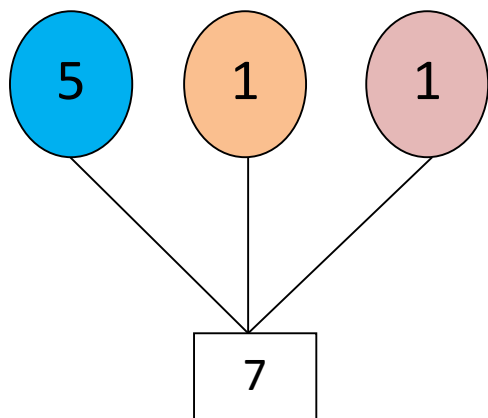
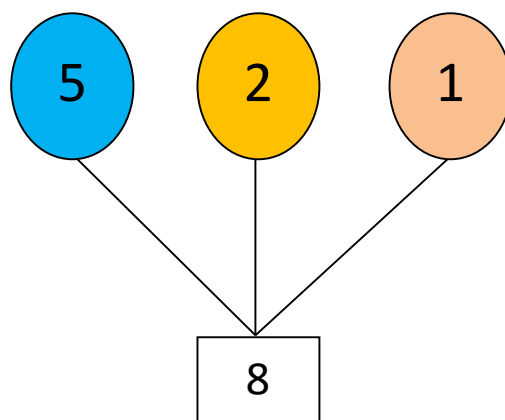
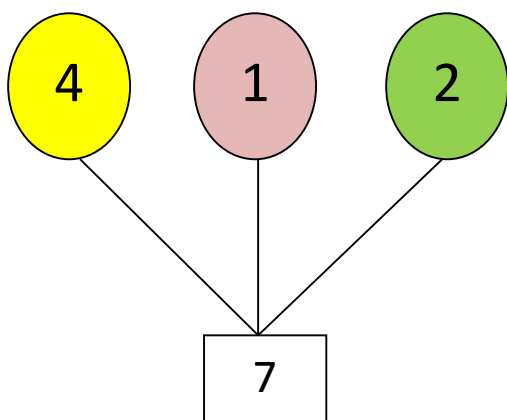
$$4 \text{ } \textcircled{-} \text{ } 2 = 2$$

$$8 \text{ } \textcircled{-} \text{ } 2 = 6$$

$$3 \text{ } \textcircled{+} \text{ } 5 = 8$$

$$3 \text{ } \textcircled{+} \text{ } 3 = 6$$

3. Sečti čísla v balóncích a výsledek zapiš do rámečku



4. Vypočítej

$$3 + 2 + 2 = 7$$

$$8 - 4 - 2 = 2$$

$$1 + 5 - 2 = 4$$

$$4 + 3 + 1 = 8$$

$$6 - 1 - 1 = 4$$

$$0 + 6 - 4 = 2$$

$$1 + 5 + 2 = 8$$

$$1 + 3 + 4 = 8$$

$$7 - 5 + 4 = 6$$

$$1 + 1 + 4 = 6$$

$$4 + 0 + 2 = 6$$

$$8 - 1 - 4 = 3$$