



INVESTICE DO ROZVOJE VZDĚLÁVÁNÍ

Výukový materiál zpracován v rámci projektu EU peníze školám

Registrační číslo projektu: CZ.1.07/1.4.00/21.3707

Šablona: III/2 **Č. materiálu:** VY_32_INOVACE_303

Jméno autora: Mgr. Barbora Tomšů
Datum vytvoření: 24. 11. 2012
Třída: I.
Vzdělávací oblast: Matematika a její aplikace
Předmět: Matematika
Tematická oblast: Číslo a početní operace
Obor čísel 0 - 7
Druh učebního materiálu: Pracovní list

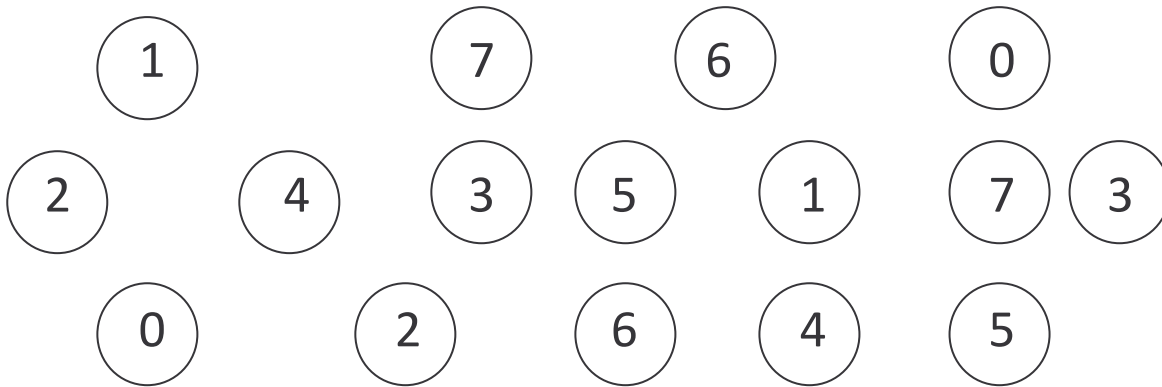
Využití výukového materiálu a metodické pokyny

- procvičuje poznávání čísel
- nacvičuje hodnotu čísel
- procvičuje vztah rovnosti a nerovnosti

Pracovní list

Obor čísel 0 – 7

1. Najdi vždy dvě stejná čísla a vybarvi je stejnou barvou



2. Vybarvi žlutě 1. a 4. hvězdičku

Vybarvi červeně 3. a 6. hvězdičku



3. Nakresli, jak těmito mincemi: 5 2 1
zaplatíš **7 Kč**

--	--	--	--

4. Nakresli správný počet a čísla porovnej

--	--

5 > 4

--	--

7 2

--	--

3 6

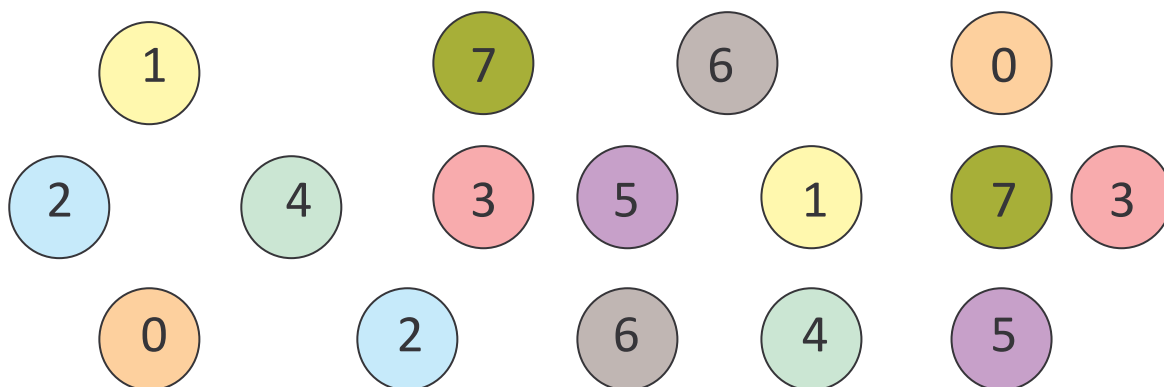
5. Dokresli správný počet

	6
	7
	4
	5
	3

Pracovní list - řešení

Obor čísel 0 – 7

1. Najdi vždy dvě stejná čísla a vybarvi je stejnou barvou

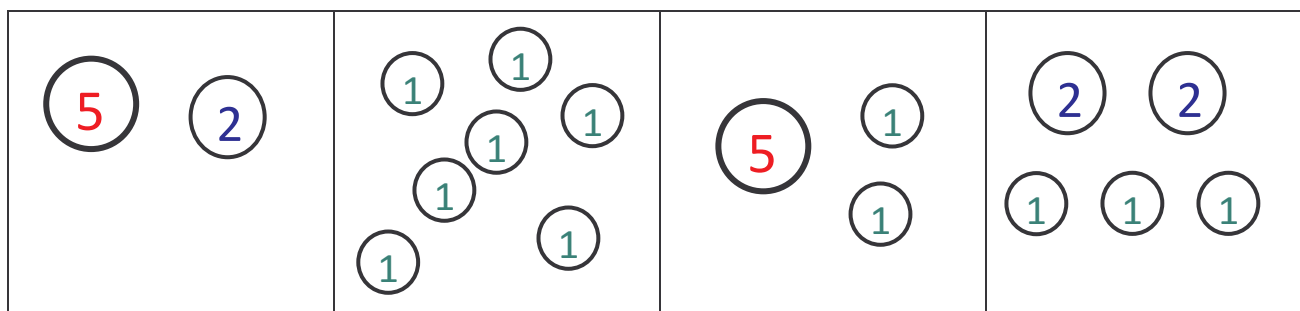


2. Vybarvi žlutě 1. a 4. hvězdičku

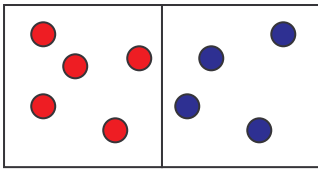
Vybarvi červeně 3. a 6. hvězdičku



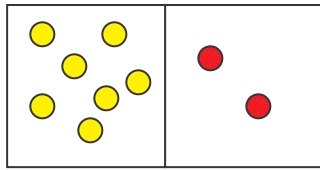
3. Nakresli, jak těmito mincemi: **5** **2** **1**
zaplatíš **7 Kč**



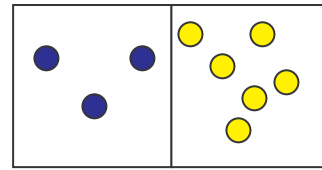
4. Nakresli správný počet a čísla porovnej



$$\underline{5} > 4$$








$$\underline{7} > 2$$



$$\underline{3} < 6$$

5. Dokresli správný počet

	6
	7
	4
	5
	3